



ЕКЗЕМПЛЯР ЗА УЧЕНИКА

Република Србија
МИНИСТЕРСТВО НА ПРОСВЕТАТА
ЦЕНТЪР ЗА ОЦЕНЯВАНЕ НА КАЧЕСТВОТО НА
ОБРАЗОВАНИЕТО И ВЪЗПИТАНИЕТО

ЗА ИЗПИТА СЛЕД ЗАВЪРШЕНО ОСНОВНО ОБРАЗОВАНИЕ

ТЕСТ ПО
ГЕОГРАФИЯ

ИДЕНТИФИКАЦИОННА ФОРМА

ИМЕ, ИМЕ НА ЕДИН ОТ РОДИТЕЛИТЕ/ДРУГ ЗАКОНЕН ПРЕДСТАВИТЕЛ, ФАМИЛИЯ НА УЧЕНИКА

ИДЕНТИФИКАЦИОНЕН НОМЕР НА УЧЕНИКА

--	--	--	--	--	--	--	--	--	--

ОСНОВНО УЧИЛИЩЕ _____
МЯСТО _____
ОБЩИНА _____


ПОДПИС НА ДЕЖУРНИЯ УЧИТЕЛ

Резултатите могат да се погледнат на портала **Моја средња школа**: <https://mojasrednjaskola.gov.rs> с въвеждане на единния идентификационен номер на ученика (код на ученика от десет цифри). За превземане на сканирания тест в пдф формат, в онази част където са достъпни резултатите от окончателния изпит, необходимо е да се въведе единния код на теста.

Единен код на теста: 170620260843

Ако родителят / друг законен представител има акаунт на портала **Мој есДневник** или акаунт на **Порталу за електронску идентификацију eID.gov.rs**, с който има достъп на портала **Мој есДневник**, тогава освен преглед на резултатите на окончателния изпит на портала **Моја средња школа** може да използва и някои от следните електронни услуги: подаване на възражение на резултатите на окончателния изпит, подаване на електронен списък на желанията и подаване на електронна заявка за записване в средно училище.

НАСОКИ ЗА РАБОТА

- Тестът, който трябва да решиш има **20** задачи. За работа са предвидени **120 минути**.
- Задачите не трябва да работиш според реда им.
- По време на работа можеш да използваш молив, гумичка, но не и калкулатор и мобилен телефон.
- Окончателните отговори и процедурата напиши **със синя химикалка**.
- Отговор, който е написан само с молив, черна химикалка, или химикалка, която лесно се изтрива, няма да бъде признат.
- Задачите с предлагани отговори няма да бъдат признати ако отговорите са коригирани.
- В задачите с предложени отговори, в които само един отговор е верен, получаваш 0 точки, ако до верния отговор отбележиш някой отговор, който не е верен.
- Обърни внимание на това, че задачите се различават по начина, на който трябва да дадеш отговора.
- Не пишете нищо на QR кодовете QR кодове () които се намират на всяка страница на теста.

В някои задачи ще изберете правилния отговор, като оцветите подходящото кръгче. В задачите, където има повече правилни отговори, трябва да бъдат оцветени повече кръгчета. Внимавайте кръгчето да бъде оцветено, защото само тогава отговорът ще бъде признат.

ПРИМЕР С ОЦВЕТЕНИ КРЪГЧЕТА
В задача с един верен отговор
Кой град е столицата на Сърбия? Оцвети кръгчето пред верния отговор. <input type="radio"/> Нови Сад <input checked="" type="radio"/> Белград <input type="radio"/> Ниш <input type="radio"/> Крушевац
В задача с повече верни отговори
Оцвети кръгчетата пред израза чийто сбор е 5. <input checked="" type="radio"/> $2 + 3$ <input type="radio"/> $1 + 2$ <input checked="" type="radio"/> $4 + 1$ <input type="radio"/> $2 + 4$ <input type="radio"/> $3 + 5$

- Ако приключиш по-рано, предай теста и тихо излезни.

Желаем ти много успех на изпита!

ЗА ИЗПИТА СЛЕД ЗАВЪРШЕНО ОСНОВНО ОБРАЗОВАНИЕ
ТЕСТ ПО
ГЕОГРАФИЯ

1. Кой е международният символ за изток?

Оцвети кръгчето пред верния отговор.

- ☐ N ☐ S ☐ E ☐ W

2. Кои форми на релефа са показани върху картата с различни нюанси на зеленият цвят?

Оцвети кръгчето пред верния отговор.

- ☐ планини ☐ плата ☐ низини ☐ пустини

3. Коя планета е най-отдалечена от Слънцето?

Оцвети кръгчето пред верния отговор.

- ☐ Сатурн ☐ Нептун ☐ Юпитер ☐ Уран

4. Как се нарича процесът на движение на Земята около Слънцето?

Оцвети кръгчето пред верния отговор.

- ☐ ротация ☐ акумулация ☐ революция ☐ ерозия

5. Кои са най-големите водни площи на Земята?

Оцвети кръгчето пред верния отговор.

- ☐ океаните ☐ моратата ☐ реките ☐ езерата

6. Как се нарича средният брой жители на един квадратен километър от дадена територия?

Оцвети кръгчето пред верния отговор.

- ☐ гъстота на населението ☐ естествен прираст
☐ раждаемост ☐ смъртност

7. Кой континент има най-голяма част на младо население?

Оцвети кръгчето пред верния отговор.

- ☐ Европа ☐ Африка ☐ Северна Америка ☐ Австралия

8. Коя дейност принадлежи към третичния сектор на стопанството?

Оцвети кръгчето пред верния отговор.

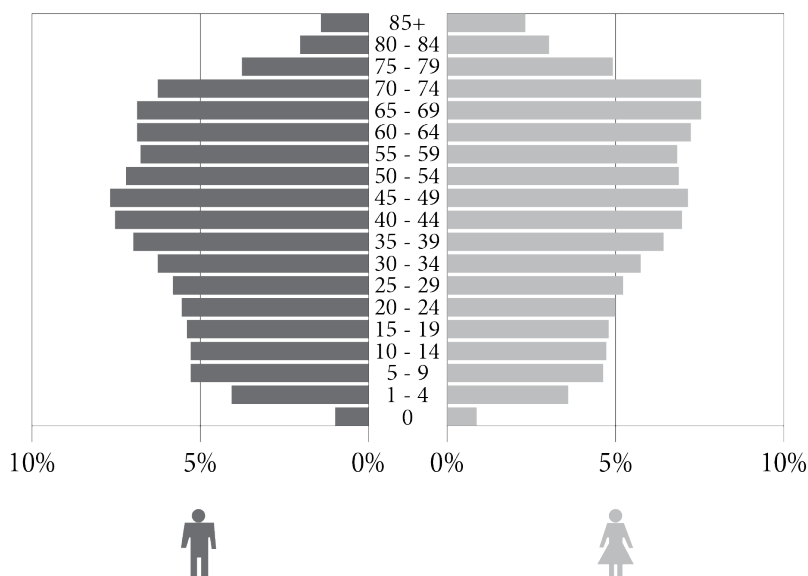
- ☐ наука ☐ горско стопанство ☐ хотелиерство и ресторантьорство ☐ строителство

9. На кој континент се намира най-многолюдната држава на света?
Оцвети крѣгчето пред верния отговор.
- ☐ Северноамериканския ☐ Европейския ☐ Африканския ☐ Азийския
10. В кое полукълбо с цялата си площ се намира Европа?
Оцвети крѣгчето пред верния отговор.
- ☐ северното ☐ южното ☐ източното ☐ западното
11. В кой месец в Северното земно полукълбо се явява най-кѣсият ден?
Оцвети крѣгчето пред верния отговор.
- ☐ януари ☐ юни ☐ септември ☐ декември
12. Оцвети крѣгчето в съответното поле, за да свѣржеш видовете езера с начина на възникване на техния басейн.

	тектонични	карстови	еолични
Възникват когато вода напълни вдлъбнатини в карстово пространство.	<input type="radio"/>	<input type="radio"/>	<input type="radio"/>
Възникват когато вода напълни части от сушата, понижени по протежение на разлом.	<input type="radio"/>	<input type="radio"/>	<input type="radio"/>
Намират се във вдлъбнатини възникнали чрез действието на вятъра.	<input type="radio"/>	<input type="radio"/>	<input type="radio"/>

13. Коя от посочените држави не е членка на Европейския съюз?
Оцвети крѣгчето пред верния отговор.
- ☐ България
- ☐ Белгия
- ☐ Швейцария
- ☐ Испания

14. Какви са характеристиките на полово-възрастовата пирамида на Сърбия, която е показана на рисунката?



Оцвети кръгчето пред верния отговор.

- ☐ по-голяма част на възрастното население спрямо младото
- ☐ най-голяма част на населението с възраст 30-34 години
- ☐ най-голяма част на младото население
- ☐ по-малка част на жените спрямо мъжете с възраст 80-84 години

15. Коя река е издълбала Овчарско-кабларската клисура?

Оцвети кръгчето пред верния отговор.

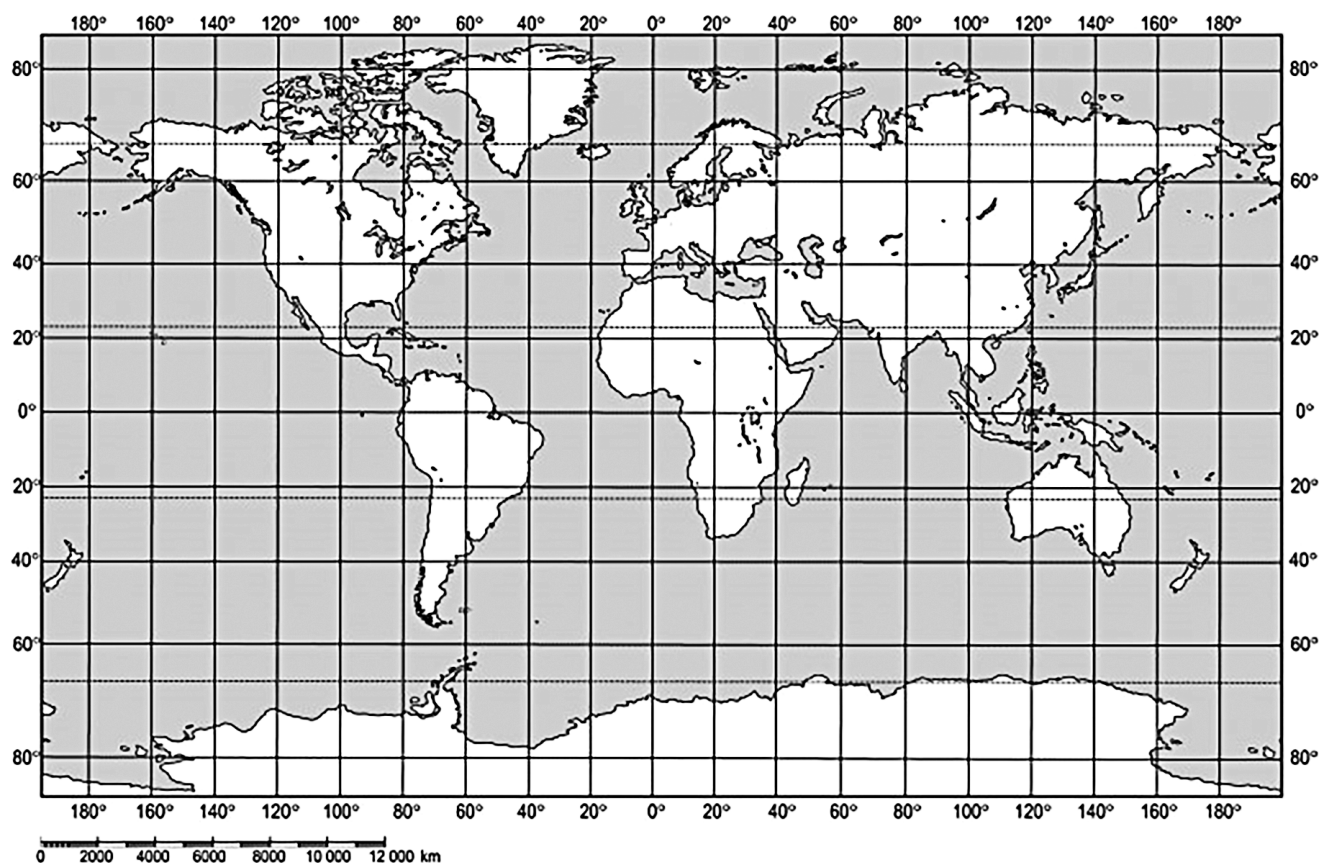
- ☐ Велика Морава
- ☐ Южна Морава
- ☐ Западна Морава
- ☐ Биначка Морава

16. Коя част от Азия има най-разчленена брегова линия?

Оцвети кръгчето пред верния отговор.

- ☐ Югозападна Азия
- ☐ Централна Азия
- ☐ Южна Азия
- ☐ Югоизточна Азия

17. В кой океан се намира точката с координатите 30° СГШ и 30° ЗГД?



Оцвети кръгчето пред верния отговор.

- ☐ Северния леден ☐ Атлантическия ☐ Индийския ☐ Тихия

18. На посещение си на манифестацията „Дни на Йован Цвийич“ в Лозница. До коя най-блиска баня можеш да направиш разходка?

Оцвети кръгчето пред верния отговор.

- ☐ баня Връдник ☐ баня Ковиляча ☐ Сокобана ☐ Врънячка баня

19. Кои държави частично се намират в Панонската низина?

Оцвети **кръгчетата** пред верните отговори.

- ☐ Гърция ☐ България ☐ Хърватия ☐ Албания ☐ Словения

20. Това е най-дългата река на Англо-Америка. Слива се с Мисури при град Сейнт Луис. Тече в меридиално направление през Централната низина. При устието си в Мексиканския залив формира голяма делта. Коя е тази река?

Оцвети кръгчето пред верния отговор.

- ☐ Мисисипи ☐ Макензи ☐ Меконг ☐ Мъри

ПРАЗНА СТРАНИЦА



Република Ср̀бия
МИНИСТЕРСТВО НА ПРОСВЕТАТА
ЦЕНТЪР ЗА ОЦЕНЯВАНЕ НА КАЧЕСТВОТО НА
ОБРАЗОВАНИЕТО И ВЪЗПИТАНИЕТО

ЕКЗЕМПЛЯР ЗА УЧИЛИЩЕТО

ЗАЛЕПЕТЕ СТИКЕРА ЗА ИДЕНТИФИКАЦИЯ

ЗА ИЗПИТА СЛЕД ЗАВЪРШЕНО ОСНОВНО ОБРАЗОВАНИЕ

ТЕСТ ПО
ГЕОГРАФИЯ

ИДЕНТИФИКАЦИОННА ФОРМА

ИМЕ, ИМЕ НА ЕДИН ОТ РОДИТЕЛИТЕ/ДРУГ ЗАКОНЕН ПРЕДСТАВИТЕЛ, ФАМИЛИЯ НА УЧЕНИКА

ИДЕНТИФИКАЦИОНЕН НОМЕР НА УЧЕНИКА

--	--	--	--	--	--	--	--	--	--

ОСНОВНО УЧИЛИЩЕ _____

МЯСТО _____

ОБЩИНА _____

ПОДПИС НА ДЕЖУРНИЯ УЧИТЕЛ